


③

名前

10) 右のような正方形の形をした花だんのまわりの長さは何mですか。




しき

答え

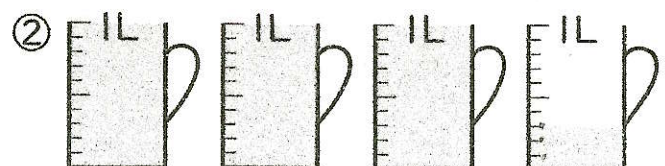
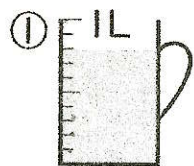
11) なし

12) つぎの直線の長さをはかりましょう。



① () ② ()


13) 水のかさはどれだけですか。



① () ② ()

14) りょうたさんは、午前10時20分から午前10時45分までサッカーのれんしゅうをしました。

れんしゅうした時間は何分ですか。



れんしゅうをはじめた時こく () 時 () 分 ()

れんしゅうがおわった時こく () 時 () 分 ()

15) 2年1組の人の好きなあそびをしらべて、ひょうとグラフにまとめています。

p.10

好きなあそびのしゅるいと人数

あそび	おにごっこ	ドッジボール	かくれんぼ	長なわ
人数(人)	8	6	9	5

好きなあそびのしゅるいと人数

○			
○			
○			
○			
○			
○			
○			
○			
おとこ			

① グラフのつづきをかきましょう。

② 好きな人が一番多いのは、どのあそびですか。

③ 好きな人が一番少ないのは、どのあそびですか。

③ ()

